

**Федеральное государственное бюджетное образовательное
учреждение высшего образования
«РОССИЙСКАЯ АКАДЕМИЯ НАРОДНОГО ХОЗЯЙСТВА
И ГОСУДАРСТВЕННОЙ СЛУЖБЫ
ПРИ ПРЕЗИДЕНТЕ РОССИЙСКОЙ ФЕДЕРАЦИИ»**

Волгоградский институт управления – филиал РАНХиГС
Экономический факультет
(наименование структурного подразделения (института/факультета/филиала))

Кафедра информационных систем и математического моделирования
(наименование кафедры)

УТВЕРЖДЕНА
решением кафедры информационных систем
и математического моделирования

Протокол от «02» сентября 2019 г. №1

РАБОЧАЯ ПРОГРАММА ДИСЦИПЛИНЫ

Б.1.Б.11.03 Теория вероятностей

(индекс, наименование дисциплины, в соответствии с учебным планом)

38.05.01 Экономическая безопасность (уровень специалитета)

(код и наименование направления подготовки (специальности))

Экономико-правовое обеспечение экономической безопасности

Экономист
(квалификация)

Очная, заочная
(форма(ы) обучения)

Год набора – 2020

Волгоград 2019 г.

Автор(ы)–составитель(и):

Доцент кафедры информационных систем и математического моделирования Савушкин А.Ю.

Заведующий кафедрой информационных систем и математического моделирования, канд. технических наук, доцент Астафурова О.А.

Рабочая программа дисциплины составлена на основе типовой рабочей программы дисциплины Б.1.Б.11.03 Теория вероятностей для специальности 38.05.01 Экономическая безопасность, авторами–составителями которой являются:

Доцент кафедры социально-гуманитарных, экономических и естественно-научных дисциплин к.т.н., доцент Резниченко А. В.

Доцент кафедры социально-гуманитарных, экономических и естественно-научных дисциплин к.э.н. доцент Жук И. А.

Заведующий кафедрой социально-гуманитарных, экономических и естественно-научных дисциплин к.т.н., доцент Выжигин А.Ю.

Заведующий кафедрой экономической безопасности, д.э.н., профессор Ломакин А.Л.

СОДЕРЖАНИЕ

1. Перечень планируемых результатов обучения по дисциплине, соотнесенных с планируемыми результатами освоения образовательной программы	4
2. Объем дисциплины в зачетных единицах с указанием количества академических или астрономических часов, выделенных на контактную работу обучающихся с преподавателем (по видам учебных занятий) и на самостоятельную работу обучающихся и место дисциплины в структуре образовательной программы	7
3. Содержание дисциплины, структурированное по темам (разделам) с указанием отведенного на них количества академических или астрономических часов, видов учебных занятий и структура дисциплины	8
4. Материалы текущего контроля успеваемости обучающихся и фонд оценочных средств промежуточной аттестации по дисциплине	27
5. Методические указания для обучающихся по освоению дисциплины	41
6. Основная и дополнительная учебная литература, необходимая для освоения дисциплины, ресурсы информационно-телекоммуникационной сети "Интернет", включая перечень учебно-методического обеспечения для самостоятельной работы обучающихся по дисциплине.....	42
7. Материально-техническая база, информационные технологии, используемые при осуществлении образовательного процесса по дисциплине, включая перечень программного обеспечения и информационных справочных систем (при необходимости)	44

1. Перечень планируемых результатов обучения по дисциплине, соотнесенных с планируемыми результатами освоения образовательной программы

1.1. Дисциплина Б.1.Б.11.03 "Теория вероятностей" обеспечивает овладение следующими компетенциями с учетом этапов (компонентов):

Код компетенции	Наименование компетенции	Код этапа освоения компетенции	Наименование этапа освоения компетенции
УК ОС-2	Способность применять проектный подход при решении профессиональных задач	УК ОС-2.3	Способность с помощью экономико-математических моделей и методов принимать проектные решения
ОПК-1	Способность применять математический инструментарий для решения экономических задач	ОПК – 1.2	Способность применять знания основ математического аппарата и инструментальных средств для проведения финансово-экономических расчетов

1.2. В результате освоения дисциплины у студентов должны быть сформированы:

ОТФ/ТФ/ профессиональные действия	Код этапа освоения компетенции	Результаты обучения
«Научно-методологическая деятельность в статистике» Профессионального стандарта «Статистик» (Утвержден Приказом Минтруда России от 08.09.2015 N 605н)	УК ОС-2.3, ОПК – 1.2	<p>на уровне знаний:</p> <ul style="list-style-type: none"> - основы теории вероятностей, необходимые для выбора ресурсов и определения ограничений проекта с качественной и количественной точек зрения; - основы теории вероятностей, необходимых для формулирования закономерностей, решения специализированных математических задач и оценки полученных результатов; <p>на уровне умений:</p> <ul style="list-style-type: none"> - применять аппарат теории вероятностей для выбора ресурсов и ограничений задач проекта; - применять аппарат теории вероятностей для формулирования закономерностей, решения специализированных математических задач и оценки полученных результатов; <p>на уровне навыков:</p> <ul style="list-style-type: none"> - обоснования перечня ресурсов и ограничений задач проекта в рамках поставленной цели; - навыки использования математического языка и математической символики для решения специализированных математических задач;

2. Объем и место дисциплины (модуля) в структуре ОП ВО

Трудоемкость дисциплины Б.1.Б.11.03 "Теория вероятностей" составляет 3 з.е. (108 а.ч.).

Количество академических часов, выделенных на контактную работу с преподавателем (по видам учебных занятий) и на самостоятельную работу обучающихся:

Очная форма:

лекции – 16 а.ч.;

практические занятия – 32 а.ч.;

самостоятельная работа – 60 а.ч.

Заочная форма:
лекции – 4 а.ч.;
практические занятия – 6 а.ч.;
самостоятельная работа – 98 а.ч.

Дисциплина «Теория вероятностей» (Б.1.Б.11.03) изучается на II курсе – 3 семестр.

Дисциплина базируется на знаниях, полученных студентами в процессе освоения школьной программы по предмету «Математика», а также дисциплин «Линейная алгебра» и «Математический анализ».

Дисциплина «Теория вероятностей» имеет логическую и содержательно-методическую взаимосвязь с дисциплинами: «Экономико-математические модели и методы», «Математическая статистика», «Эконометрика».

Форма промежуточной аттестации в соответствии с учебным планом: контрольная работа – 3 семестр.

3.1 Содержание и структура дисциплины

№ п/п	Наименование тем (разделов)	Объем дисциплины (модуля), час.				СР	Форма текущего контроля успеваемости*, промежуточной аттестации
		Всего	Контактная работа обучающихся с преподавателем по видам учебных занятий				
			Л	ЛР	ПЗ		
Очная форма обучения							
Теория вероятностей							
Тема 1	Случайные события	28	4		10	14	О, КР
Тема 2	Случайные величины	42	8		14	20	О, КР
Тема 3	Случайные процессы и элементы теории массового обслуживания	38	4		8	26	О, КР
	Всего:	108	16		32	60	КР
Заочная форма обучения							
Теория вероятностей							
Тема 1	Случайные события	28	1		2	25	О, КР
Тема 2	Случайные величины	42	2		2	38	О, КР
Тема 3	Случайные процессы и элементы теории массового обслуживания	38	1		2	35	О, КР
	Всего:	108	4		6	60	КР

* Формы текущего контроля успеваемости: опрос (О), контрольная работа (КР) и др.

Содержание дисциплины

Тема 1. Случайные события.

Основные понятия теории вероятностей. Случайные события. Вероятность события (классическое, статистическое и геометрическое определения вероятности). Основные понятия комбинаторики. Действия над событиями. Теоремы сложения и умножения вероятностей. Условная вероятность. Зависимые и независимые события. Формула полной вероятности. Формула Байеса. Повторные независимые испытания. Формула Бернулли. Теорема Пуассона. Локальная и интегральная теоремы Муавра-Лапласа.

Тема 2. Случайные величины.

Случайная величина и ее закон распределения. Дискретные и непрерывные случайные величины. Функция распределения случайной величины. Плотность распределения непрерывной случайной величины. Числовые характеристики случайных величин: математическое ожидание, дисперсия, среднее квадратическое отклонение, мода,

медиана, квантили. Их свойства. Начальные и центральные моменты случайных величин. Основные законы распределения случайных величин. Распределения случайных величин, представляющих функции нормальных величин. Неравенства Маркова и Чебышева. Закон больших чисел. Теоремы Чебышева, Бернулли и Пуассона. Центральная предельная теорема. Многомерные случайные величины. Функция распределения и плотность двумерной случайной величины. Зависимые и независимые случайные величины. Условные законы распределения. Числовые характеристики двумерных случайных величин. Ковариация, коэффициент корреляции.

Тема 3. Случайные процессы и элементы теории массового обслуживания.

Случайные процессы и их характеристики. Марковские процессы. Потоки событий. Уравнения Чепмена-Колмогорова. Основные понятия теории массового обслуживания. Процессы гибели и размножения. Системы массового обслуживания с отказом и с ожиданием. Методы теории массового обслуживания в решении экономических задач.

Задания практических занятий

Теория вероятностей

Тема 1. Случайные события

Занятие 1

Цель: дать знания положений изучаемого курса и привить навыки применения математических методов решения задач, в том числе, в сфере профессиональной деятельности.

1. Повторение определений основных понятий темы в форме контрольного опроса и проверка самостоятельной работы по выполнению домашнего задания.

2. Решить задачи:

- а) Сколькими способами можно расположить на полке пятитомное собрание сочинений?
- б) В математическом кружке 25 членов. Необходимо избрать председателя, его заместителя, редактора стенгазеты и секретаря. Сколькими способами можно образовать эту руководящую четверку, если одно лицо может занимать только один пост?
- в) В районной организации некоторой партии насчитывается 150 членов. Сколькими способами можно избрать 6 делегатов на съезд.

на дом

г) Для полета на Марс необходимо укомплектовать экипаж космического корабля в составе: командир корабля, первый помощник, второй помощник, два бортиженера и один врач. Командная тройка может быть отобрана из 25 летчиков, 2 бортиженера – из числа 20 равноценных технических специалистов, а врач – из числа 8 медиков. Сколькими способами можно укомплектовать экипаж корабля?

д) На тренировке занимаются 12 баскетболистов. Сколько может быть образовано тренером разных стартовых пятерок?

3. Решить задачи:

- а) Из колоды карт (36 карт) наудачу вынимаются одна карта. Найти вероятность того, что она окажется тузом.
- б) Четырем игрокам раздается поровну колода из 36 карт. Определить вероятность того, что каждый игрок получил карты только одной масти?

на дом

в) В урне 30 шаров: 10 красных, 5 синих и 15 белых. Найти вероятность появления цветного шара.

г) Из колоды карт (36 карт) наудачу вынимаются три карты. Найти вероятность того, что среди них окажется только один туз.

4. Результаты оценки подготовки групп по математике приведены в таблице:

Оценка	"Отлично"	"Хорошо"	"Удов."	"Неудов."
Количество групп	18	23	15	3

Определить статистическую вероятность (частоту) получения оценки "хорошо", а также оценки не ниже чем "хорошо" и положительной оценки любой группой.

5. Решить задачи:

а) Слово составлено из карточек, на каждой из которых написана одна буква. Карточки смешивают и вынимают без возврата по одной.

Найти вероятность того, что карточки с буквами вынимаются в порядке следования букв заданного слова: а) «событие»; б) «статистика»?

б) Наудачу взятый телефонный номер состоит из 5 цифр.

Какова вероятность того, что в нем все цифры: различные; одинаковые; нечетные. Известно, что номер телефона не может начинаться с цифры ноль.

на дом

в) Пятитомное собрание сочинений расположено на полке в случайном порядке. Какова вероятность того, что книги слева направо в порядке нумерации томов (от 1 до 5)?

г) Среди 15 лампочек 4 стандартные. Одновременно берут наудачу 2 лампочки. Найти вероятность того, что хотя бы одна из них нестандартная.

6. Среди 25 студентов, из которых 15 девушек, разыгрываются 4 приглашения на дискотеку, причем каждый может выиграть только один билет. Какова вероятность того, что среди обладателей билета окажутся а) только девушки, б) только юноши?

на дом

Какова вероятность того, что среди обладателей билета окажутся две девушки и двое юношей?

Занятие 2

Цель: дать знания положений изучаемого курса и привить навыки применения математических методов решения задач, в том числе, в сфере профессиональной деятельности.

1. Повторение определений основных понятий темы в форме контрольного опроса и проверка самостоятельной работы по выполнению домашнего задания.

2. Решить задачи:

а) Сколько трехзначных чисел можно составить из цифр 1, 2, 3, 4 и 5, если цифры могут повторяться? При условии, что ни одна цифра не повторяется?

б) Сколько пятизначных чисел можно составить из цифр 0, 1?

на дом

в) В продажу поступили открытки 10 разных видов. Сколькими способами можно образовать набор из 12 открыток? из 8 открыток?

г) Сколько пятизначных чисел можно составить из цифр 1, 2, 3, если допускается повторение этих цифр?

3. Решить задачи:

а) Какова вероятность того, что наудачу брошенная в круг точка окажется внутри вписанного в него квадрата?

б) В районе площадью 16 кв. км находится объект противника. Для его обнаружения выслана разведывательная группа. Оценить эффективность действия разведывательной группы через 1 час ведения разведки, если ее скорость передвижения в районе составляет 3 км/час при эффективном радиусе обнаружения 1 км.

на дом

в) Какова вероятность того, что наудачу брошенная в круг точка окажется внутри вписанного в него равностороннего треугольника?

4. Решить задачи:

а) Участники жеребьевки тянут из ящика жетоны с номерами от 1 до 100. Найти вероятность того, что номер первого наудачу извлеченного жетона не содержит цифры 5.

б) В ящике 90 стандартных и 10 нестандартных деталей. Какова вероятность того, что среди 10 наугад вынутых деталей бракованных не окажется?

5. Решить задачи:

а) Имеется коробка с девятью новыми теннисными мячами. Для игры берут три мяча, а после игры кладут их обратно. При выборе мячей игранные от неигранных не отличаются. Какова вероятность того, что после трех игр в коробке не останется неигранных мячей?

б) В одной группе 18 студентов, из которых 9 учатся на «отлично». В другой – 16 студентов, из которых на «отлично» учатся 4. Из каждой группы случайным образом выбрали по одному студенту. Какова вероятность того, что а) студент каждой группы учится на «отлично»; б*) оба учатся на «отлично»?

в) Студент знает 20 из 25 вопросов программы. Зачет считается сданным, если студент ответит не менее чем на 3 из 4 поставленных в билете вопросов. Взглянув на первый вопрос, студент понял, что он его знает. Какова вероятность того, что студент: а) сдаст зачет; б) не сдаст зачет?

на дом

г) Из ящика, содержащего 5 пар обуви, из которых три пары мужской, а две пары – женской, перекалывают наудачу 2 пары обуви в другой ящик, содержащий одинаковое количество пар женской и мужской обуви. Какова вероятность того, что во втором ящике после этого окажется одинаковое количество пар мужской и женской обуви?

д) Для проведения соревнования 16 волейбольных команд разбиты по жребию на две подгруппы (по восемь команд в каждой). Найти вероятность того, что две наиболее сильные команды окажутся: в разных подгруппах; в одной подгруппе.

Занятие 3.

Цель: дать знания положений изучаемого курса и привить навыки применения математических методов решения задач, в том числе, в сфере профессиональной деятельности.

1. Повторение определений основных понятий темы в форме контрольного опроса и проверка самостоятельной работы по выполнению домашнего задания.

2. Решить задачи:

а) Вероятность того, что студент сдаст первый экзамен, равна 0,9; второй – 0,9 третий – 0,8. Найти вероятность того, что студентом будут сданы: только второй экзамен; только один экзамен.

б) Прибор, работающий в течение времени t , состоит из трех узлов, каждый из которых независимо от других может за это время выйти из строя. Неисправность хотя бы одного узла выводит прибор из строя целиком. Вероятность безотказной работы в течение времени t

первого узла равно 0,9; второго – 0,95, а третьего – 0,8. Найти вероятность того, что в течение времени t прибор выйдет из строя.

на дом

в) Вероятность того, что студент сдаст первый экзамен, равна 0,9; второй – 0,9 третий – 0,8. Найти вероятность того, что студентом будут сданы: три экзамена; по крайней мере, два экзамена; хотя бы один экзамен.

г) Студент разыскивает нужную ему формулу в трех справочниках. Вероятность того, что формула содержится в первом, втором и третьем справочниках, равна соответственно 0,6, 0,7 и 0,8. Найти вероятность того, что эта формула содержится не менее чем в двух справочниках.

3. На полке стоит 10 книг, среди которых три книги по теории вероятностей. Наудачу берутся три книги. Какова вероятность того, что среди отобранных есть хотя бы одна книга по теории вероятностей?

на дом

На связке 5 ключей. К замку подходит только один ключ. Найти вероятность того, что потребуется не более двух попыток открыть замок, если опробованный ключ в дальнейших испытаниях не участвует.

4. По результатам проверки зачетных работ оказалось, что в первой группе получили зачет 20 студентов из 30, а во второй 16 из 32. Какова вероятность того, что наудачу выбранная зачетная работа принадлежит студенту первой группы?

на дом

Два стрелка сделали по одному выстрелу в одну и ту же мишень. Вероятность попадания в мишень для первого стрелка равна 0,8, а для второго – 0,5. В мишени оказалась одна пробоина. Найти вероятность того, что пробоина принадлежит второму стрелку.

5. В семье двое детей. Известно, что один из них мальчик. Какова вероятность, что оба ребенка – мальчики?

6*. Решить задачи:

а) Среди клиентов банка 80% являются физическими лицами и 20% – юридическими. Из практики известно, что 40% всех операций приходится на долгосрочные расчеты, и в тоже время из общего числа операций, связанных с физическими лицами, 30% приходится на долгосрочные расчеты.

Какова вероятность того, что наудачу выбранный клиент является юридическим лицом и осуществляет долгосрочный расчет?

б) Брак в продукции завода вследствие дефекта **A** составляет 4%, а вследствие дефекта **B** – 3,5%. Годная продукция завода составляет 95%.

Найти вероятность того, что: а) среди продукции, не обладающей дефектом **A**, встретится дефект **B**; б) среди забракованной по признаку **A** продукции встретится дефект **B**.

на дом

в) Вероятность того, что студент сдаст экзамен по дисциплине **A**, равна 0,8. Условная вероятность того, что студент сдаст экзамен по дисциплине **B** равна: 0,6 при условии, что он экзамен по дисциплине **A** сдаст; 0,5 при условии, что – не сдаст. Необходимо найти вероятность того, что экзамен хотя бы по одной из двух дисциплин студент: сдаст; не сдаст. Определить являются ли события – сдача экзаменов по дисциплинам **A** и **B** независимыми?

г) В магазине продаются 10 телевизоров, 3 из которых имеют дефекты. Какова вероятность того, что посетитель купит телевизор, если для выбора телевизора без дефектов понадобится не более трех попыток?

Занятие 4

Цель: дать знания положений изучаемого курса и привить навыки применения математических методов решения задач, в том числе, в сфере профессиональной деятельности.

1. Повторение определений основных понятий темы в форме контрольного опроса и проверка самостоятельной работы по выполнению домашнего задания.

2. Решить задачи:

а) В торговую фирму поступили телевизоры от трех поставщиков в отношении 1: 4: 5. Практика показала, что телевизоры, поступающие от 1-го, 2-го и 3-го поставщиков, не потребуют ремонта в течение гарантийного срока соответственно в 98%, 88% и 92% случаев. Найти вероятность того, что поступивший в торговую фирму телевизор не потребует ремонта в течение гарантийного срока. Проданный телевизор потребовал ремонта в течение гарантийного срока. От какого поставщика вероятнее всего поступил этот телевизор?

б) Страховая компания разделяет застрахованных клиентов по классам риска: I – малый риск, II – средний, III – большой риск. Среди этих клиентов: 50% – первого класса риска, 30% – второго и 20% – третьего. Вероятность необходимости выплачивать страховое вознаграждение для первого класса риска равна 0,01, второго 0,03 и третьего – 0,08.

Какова вероятность того, что: застрахованный клиент получит денежное вознаграждение за период страхования; получивший денежное вознаграждение застрахованный клиент относится к группе малого риска?

в) В урне два белых и три черных шара. Два игрока по очереди вынимают из урны по шару, не возвращая их обратно. Выигрывает тот, кто раньше вынет белый шар. Найти вероятность того, что выиграет первый игрок.

г) Два руководителя планируют создать совместное предприятие, если в течение года каждому из них удастся сформировать свою долю начального капитала. Вероятности этого равны соответственно 0,4 и 0,7. По истечении года выяснилось, что совместное предприятие не может быть создано. Какова вероятность того, что каждый участник сумел накопить свою долю начального капитала?

на дом

д) В данный район изделия поставляются тремя фирмами в соотношении 5:8:7. Среди продукции первой фирмы стандартные изделия составляют 90%, второй – 85%, третьей – 75%. Найти вероятность того, что: а) приобретенное изделие окажется нестандартным; б) приобретенное изделие оказалось стандартным. Какова вероятность того, что оно изготовлено третьей фирмой?

е) Вся продукция цеха проверяется двумя контролерами, причем первый контролер проверяет 55% изделий, а второй – остальные. Вероятность того, что первый контролер пропустит нестандартное изделие, равна 0,01, а второй – 0,02. Взятое наудачу изделие, маркированное как стандартное, оказалось нестандартным. Найти вероятность того, что это изделие проверялось вторым контролером.

ж) Из урны содержащей три белых и пять черных шаров, два человека вынули поочередно по шару (без возвращения). Какова вероятность того, что первый вынул белый шар, если второй вынул черный?

з) Два стрелка поочередно стреляют по мишени до первого попадания. Вероятность попадания для первого стрелка равна 0,2, а для второго – 0,3. Какова вероятность того, что первый сделает больше выстрелов?

3. Вероятность, что малое предприятие станет банкротом в течение года равна 0,2. Найти вероятность, что из восьми малых предприятий за первый год обанкротятся два предприятия.

на дом

Найти вероятность, что из восьми малых предприятий за первый год обанкротятся более двух предприятий.

Занятие 5

Цель: дать знания положений изучаемого курса и привить навыки применения математических методов решения задач, в том числе, в сфере профессиональной деятельности.

1. Повторение определений основных понятий темы в форме контрольного опроса и проверка самостоятельной работы по выполнению домашнего задания.

2. В институте обучается 730 студентов. Вероятность того, что день рождения студента приходится на определенный день года, равна $1/365$. Найти наиболее вероятное число студентов, родившихся 1 января, оценить вероятность такого события.

3*. В группе обучается 36 студентов. Вероятность того, что день рождения студента приходится на определенный день года, равна $1/365$. Оценить вероятность того, что, по крайней мере, 2 студента имеют одинаковый день рождения.

4. Фирма раскладывает рекламные листки по почтовым ящикам. Препятствие опыта работы показывает, что на 500 рекламных листов приходится один заказ. Оценить вероятность того, что при размещении 25 тысяч листов число заказов будет равно 48.

на дом

Оценить вероятность того, что при размещении 25 тысяч листов число заказов будет находиться в пределах от 45 до 55.

5. Решить задачи

а) Учебник издан тиражом 10000 экземпляров. Вероятность того, что экземпляр учебника сброшюрован неправильно, равна 0,0001. Найти вероятность того, что: тираж содержит 5 бракованных книг; по крайней мере 9998 книг сброшюрованы правильно.

б) Для поражения цели необходимо не менее трех попаданий. Определить вероятность поражения цели, если вероятность попадания при каждом выстреле равна 0,3 и производится пять выстрелов.

в) Вероятность того, что при одном выстреле стрелок попадет в десятку, равна 0,6. Сколько выстрелов должен сделать стрелок, чтобы с вероятностью не менее 0,8 он попал в десятку хотя бы один раз?

на дом

г) При обследовании уставных фондов банков установлено, что пятая часть банков имеют уставный фонд свыше 100 млн. руб. Найти вероятность того, что среди 1800 банков имеют уставный фонд свыше 100 млн. руб.: не менее 300; от 300 до 400 включительно.

д) Подводная лодка атакует крейсер, выпуская по нему одну за другой 4 торпеды; вероятность попадания каждой – $3/4$. Любая из торпед с одинаковой вероятностью может пробить один из 10 отсеков крейсера, которые в результате попадания наполняются водой.

При заполнении хотя бы двух отсеков крейсер тонет. Вычислить вероятность гибели крейсера.

е) Вероятность того, что событие A появится хотя бы один раз при двух независимых испытаниях, равна 0,75. Найти вероятность появления события в одном испытании (предполагается, что вероятность появления события в обоих испытаниях одна и та же).

Тема 2. Случайные величины

Занятие 1

Цель: дать знания положений изучаемого курса и привить навыки применения математических методов решения задач, в том числе, в сфере профессиональной деятельности.

1. Повторение определений основных понятий темы в форме контрольного опроса и проверка самостоятельной работы по выполнению домашнего задания.

2. Решить задачи:

а) Вероятность того, что студент сдаст семестровый экзамен в сессию по дисциплинам A и B , равны соответственно 0,7 и 0,9. Составить закон распределения числа семестровых экзаменов, которые сдаст студент.

б) Дана случайная величина X :

x_i	-1	1	2
p_i	0,5	0,4	0,1

Найти закон распределения случайных величин: а) $Y = 0,5X$; б) $Z = X^3$.

Построить функцию распределения, найти математическое ожидание, дисперсию и среднеквадратическое отклонение исходных и полученных случайных величин.

3. Решить задачи:

а) Вероятность поражения вирусным заболеванием куста земляники равна 0,2. Составить закон распределения числа кустов земляники, зараженных вирусом, из четырех посаженных кустов.

б) Клиенты банка, не связанные друг с другом, не возвращают кредиты в срок с вероятностью 0,1. Составить закон распределения числа возвращенных в срок кредитов из 5 выданных. Найти математическое ожидание, дисперсию и среднее квадратическое отклонение этой случайной величины.

в) В билете три задачи. Вероятность правильного решения первой задачи равна 0,9, второй – 0,8, третьей – 0,7. Составить закон распределения числа правильно решенных задач в билете и вычислить математическое ожидание и дисперсию этой случайной величины.

г) Случайные величины X и Y независимы и имеют один и тот же закон распределения:

Значение – x_i	1	2	4
Вероятность – p_i	0,2	0,3	0,5

Составить закон распределения случайных величин $2X$ и $X+Y$. Убедиться в том, что $2X \neq X+Y$, но $M[2X] = M[X+Y]$.

на дом

д) Стрелок ведет стрельбу по цели с вероятностью попадания при каждом выстреле 0,2. За каждое попадание он получает 5 очков, а в случае промаха очков ему не начисляют. Составить закон распределения числа очков, полученных стрелком за 3 выстрела, и вычислить математическое ожидание этой случайной величины.

е) Контрольная работа состоит из трех вопросов. На каждый вопрос приведено 4 ответа, один из которых правильный. Составить закон распределения числа правильных ответов при простом угадывании. Найти математическое ожидание и дисперсию этой случайной величины.

ж) Найти закон распределения числа пакетов трех акций, по которым владельцем будет получен доход, если вероятность получения дохода по каждому из них равна соответственно 0,5, 0,6, 0,7. Найти математическое ожидание и дисперсию данной случайной величины, построить функцию распределения.

з) Два стрелка сделали по два выстрела по мишени. Вероятность попадания в мишень для первого стрелка равна 0,6, для второго – 0,7. Необходимо: составить закон распределения общего числа попаданий; найти математическое ожидание и дисперсию этой случайной величины.

Занятие 2

Цель: дать знания положений изучаемого курса и привить навыки применения математических методов решения задач, в том числе, в сфере профессиональной деятельности.

1. Повторение определений основных понятий темы в форме контрольного опроса и проверка самостоятельной работы по выполнению домашнего задания.

2. Решить задачи:

а) Из пяти гвоздик две белые. Составить закон распределения и найти функцию распределения случайной величины, выражающей число белых гвоздик среди двух одновременно взятых.

б) Экзаменатор задает студенту вопросы, пока тот правильно отвечает. Как только число правильных ответов достигнет четырех либо студент ответит неправильно, экзаменатор прекращает задавать вопросы. Вероятность правильного ответа на один вопрос равна $2/3$.

Составить закон распределения числа заданных студенту вопросов.

в) Даны законы распределения двух независимых случайных величин X и Y :

x_i	0	1	3
p_i	0,2	0,5	?

y_i	2	3
p_i	0,4	?

Найти вероятности, с которыми случайные величины принимают значение 3, а затем составить закон распределения случайной величины $3X - 2Y$ и проверить выполнение свойств математических ожиданий и дисперсий:

$$M[3X - 2Y] = 3M[X] - 2M[Y], \quad D[3X - 2Y] = 9D[X] + 4D[Y].$$

г) Дискретная случайная величина X задана рядом распределения

x_i	1	2	3	4	5
p_i	0,2	0,3	0,3	0,1	0,1

Найти условную вероятность события $X < 5$ при условии, что $X > 2$.

д) Случайная величина X , сосредоточенная на интервале (1;4), задана квадратичной функцией распределения $F(x) = ax^2 + bx + c$, имеющей максимум при $x = 4$. Найти параметры a , b , c и вычислить вероятность попадания случайной величины X в интервал $[2;3]$.

на дом

е) Каждый поступающий в институт должен сдать 3 экзамена. Вероятность успешной сдачи первого экзамена 0,9, второго – 0,8, третьего – 0,7. Следующий экзамен поступающий сдает только в случае успешной сдачи предыдущего. Составить закон распределения числа

экзаменов, сдававшихся поступающим в институт. Найти математическое ожидание этой случайной величины.

ж) На двух автоматических станках производятся одинаковые изделия. Даны законы распределения числа бракованных изделий, производимых в течение смены на каждом из них:

а) для первого

x_i	0	1	2
p_i	0,1	0,6	0,3

б) для второго

y_i	0	2
p_i	0,5	0,5

Необходимо: а) составить закон распределения числа производимых в течение смены бракованных изделий обоими станками; б) проверить свойство математического ожидания суммы случайных величин.

з) Случайная величина X задана функцией распределения

$$F(x) = \begin{cases} 0 & \text{при } x \leq 0 \\ x^2 & \text{при } 0 < x \leq 1 \\ 1 & \text{при } x > 1 \end{cases}$$

Найти: плотность вероятности $\varphi(x)$; математическое ожидание; дисперсию; вероятности $P(X=0,5)$; $P(X < 0,5)$; $P(0,5 \leq X \leq 1)$; построить графики $\varphi(x)$ и $F(x)$.

и) Случайные величины X_1, X_2 независимы и имеют одинаковое распределение:

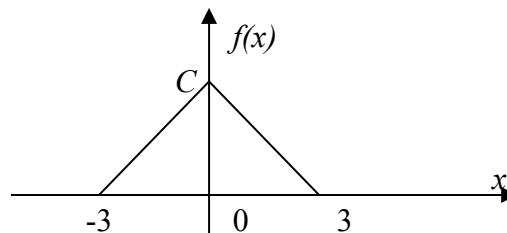
x_i	0	1	2	3
p_i	1/4	1/4	1/4	1/4

Найти: вероятность события $X_1 + X_2 > 2$ и условную вероятность $P(X_1 + X_2 > 2 | X_1 = 1)$.

к) Дана функция $f(x) = \begin{cases} 0 & \text{при } x < 0; \\ Cxe^{-x} & \text{при } x \geq 0. \end{cases}$

При каком значении параметра C эта функция является плотностью распределения некоторой непрерывной случайной величины X ? Найти математическое ожидание и дисперсию случайной величины X .

л*) Случайная величина X распределена по закону Симпсона (равнобедренного треугольника) на отрезке $[-3; 3]$:



Найти: выражения плотности вероятности $f(x)$ и функции распределения $F(x)$; числовые характеристики $M[X]$, $D[X]$, $\mu_3[X]$; вероятность $P(-3/2 < X < 3)$ и показать ее на данном в условии графике $f(x)$ и построенном графике $F(x)$.

Занятие 3 (в компьютерном классе)

Цель: дать знания положений изучаемого курса и привить навыки применения математических методов решения задач, в том числе, в сфере профессиональной деятельности.

1. Повторение определений основных понятий темы в форме контрольного опроса и проверка самостоятельной работы по выполнению домашнего задания.

2. Вычислить значения плотности равномерного распределения, сосредоточенного на интервале $[a, b]$, значения функции этого равномерного распределения для массива аргумента от -1 до 4 с шагом 0,1. Построение выполнить для $a = 1, b = 3$.

При вычислении использовать логические функции. Построить графики плотности этого равномерного распределения и функции этого распределения.

3. Малое предприятие оказывается банкротом в течение года с вероятностью p . Найти вероятности того, что в течение года банкротами станут 0, 1, 2, 3, 4, 5 малых предприятий из пяти зарегистрированных в данном регионе. Вычислить с использованием стандартной функции *Excel* (БИНОМ.РАСП) для $p = 0,2; 0,3; 0,4; 0,5; 0,7; 0,8$.

Построить полученные распределения графически. Найти наиболее вероятное число предприятий, ставших банкротами, для каждого из указанных значений вероятности.

4. Построить таблицу значений плотности и функции нормального распределения с параметрами a и σ на интервале $[-5, 5]$ с шагом 0,1 (с использованием стандартной функции *Excel* (НОРМ.РАСП)).

Построить графики полученных функций. Проанализировать зависимость формы и положения графика от значений параметров. Остановиться на графиках стандартного нормального распределения ($a = 0; \sigma = 1$).

5. Использование нормализованных значений (НОРМАЛИЗАЦИЯ).

Школьник участвует в двух олимпиадах. На одной он набрал 70 баллов, на другой – 80. Где он выступил удачнее, если средний балл участника первой олимпиады равен 60, а второй – 70, стандартное отклонение в первом случае равно 5, а во втором – 10?

на дом

Построение и анализ графиков плотностей и функций распределений Пуассона и экспоненциального с использованием стандартных функций *Excel* (ПУАССОН, ЭКСПРАСП) по заданию, выданному на занятии.

Образовательные технологии: применение вычислительной техники с соответствующим программным обеспечением и мультимедийной аппаратуры.

Занятие 4

Цель: дать знания положений изучаемого курса и привить навыки применения математических методов решения задач, в том числе, в сфере профессиональной деятельности.

1. Повторение определений основных понятий темы в форме контрольного опроса и проверка самостоятельной работы по выполнению домашнего задания.

2. Решить задачи:

а) Устройство состоит из 1000 элементов, работающих независимо один от другого. Вероятность отказа любого элемента в течение времени t равна 0,002. Необходимо: а) составить закон распределения отказавших за время t элементов; б) найти математическое ожидание и дисперсию этой случайной величины; в) определить вероятность того, что за время t откажет хотя бы один элемент.

б) Среднее время безотказной работы прибора равно 80 ч. Полагая, что время безотказной работы прибора имеет показательный закон распределения, найти: а) выражение его плотности вероятности и функции распределения; б) вероятность того, что в течение (не менее !) 100 ч прибор не выйдет из строя.

на дом

в) Длительность времени безотказной работы элемента имеет показательное распределение

$$F(t) = 1 - e^{-0,01t} \quad (t > 0).$$

Найти вероятность того, что за время длительностью $t = 50$ ч.: а) элемент откажет; б) элемент не откажет.

3. Решить задачи:

а) Текущая цена акции может быть смоделирована с помощью нормального закона распределения с математическим ожиданием 15 у.е. и средним квадратическим отклонением 0,2 у.е.

Найти вероятность того, что цена акции: а) не выше 15,3 у.е.; б) не ниже 15,4 у.е.; в) от 14,9 до 15,3 у.е. С помощью правила трех сигм найти границы, в которых будет находиться текущая цена акции.

б) Коробки с конфетами упаковываются автоматически. Их средняя масса равна 540 г. Известно, что масса коробок с конфетами имеет нормальное распределение, а 5% коробок имеют массу, меньшую 500 г. Каков процент коробок, масса которых: а) менее 470 г; б) от 500 до 550 г; в) более 550 г; г) отличается от средней не более, чем на 30 г (по абсолютной величине)?

на дом

в) Случайная величина X распределена по нормальному закону с нулевым математическим ожиданием. Вероятность попадания этой случайной величины на отрезок от -1 до +1 равна 0,5. Найти выражения плотности вероятности и функции распределения случайной величины X .

г) Длина изготавливаемой автоматом детали представляет собой случайную величину X , распределенную по нормальному закону с параметрами $m_x = a = 15$ см., $\sigma_x = 0,2$ см.

Найти вероятность брака, если допускаемые размеры детали должны быть $15 \pm 0,3$ (см). Определить какую точность длины можно гарантировать с вероятностью 0,97?

4. Решить задачи:

а) Автобусы некоторого маршрута идут строго по расписанию и интервалом 7 минут. Составить функцию плотности случайной величины T – времени ожидания очередного автобуса пассажиром, который наудачу подошел к остановке. Найти вероятность того, что он будет ждать автобус не более трёх минут. Найти функцию распределения $F(t)$.

на дом

б) Испытывают три элемента, которые работают независимо один от другого. Длительность времени безотказной работы элементов распределена по показательному закону: для первого элемента $F_1(t) = 1 - e^{-0,1t}$; для второго $F_2(t) = 1 - e^{-0,2t}$; для третьего элемента $F_3(t) = 1 - e^{-0,3t}$. Найти вероятности того, что в интервале времени (0,5) часов откажут: только один элемент; только два элемента; все три элемента.

Занятие 5

Цель: дать знания положений изучаемого курса и привить навыки применения математических методов решения задач, в том числе, в сфере профессиональной деятельности.

1. Повторение определений основных понятий темы в форме контрольного опроса и проверка самостоятельной работы по выполнению домашнего задания.

2. Решить задачи:

а) Отделение банка обслуживает в среднем 100 клиентов в день. Оценить вероятность того, что сегодня в отделении банка будет обслужено: более 150 клиентов; не более 200 клиентов.

б) Электростанция обслуживает сеть на 1600 электроламп, вероятность включения каждой из которых вечером равна 0,9. Оценить с помощью неравенства Чебышева вероятность того, что число ламп, включенных в сеть вечером, отличается от своего математического ожидания

не более чем на 100 (по абсолютной величине). Найти вероятность того же события, используя следствие из интегральной теоремы Муавра–Лапласа.

в) В течение времени t эксплуатируются 500 приборов. Каждый прибор имеет надежность 0,98 и выходит из строя независимо от других. Оценить с помощью неравенства Чебышева вероятность того, что доля надежных приборов отличается от 0,98 не более чем на 0,1 (по абсолютной величине).

г) Сколько нужно произвести измерений, чтобы с вероятностью, равной 0,9973, утверждать, что погрешность средней арифметической результатов этих измерений не превысит 0,01, если измерение характеризуется средним квадратическим отклонением, равным 0,03?

на дом

д) Среднее изменение курса акции компании в течение одних биржевых торгов составляет 0,3%. Оценить вероятность того, что на ближайших торгах курс изменится более чем на 3%.

е) В среднем 10% работоспособного населения города – безработные. С помощью неравенства Чебышева оценить вероятность того, что уровень безработицы среди обследованных 10 000 работоспособных жителей города будет в пределах от 9 до 11%.

ж) По опыту работы страховой компании, страховой случай приходится на каждый пятый договор. Оценить с помощью неравенства Чебышева, сколько договоров следует заключить, чтобы с вероятностью 0,9 можно было утверждать, что доля страховых случаев отклонится от 0,2 не более чем на 0,01 (по модулю). Уточнить ответ с помощью следствия из интегральной теоремы Муавра–Лапласа.

з) В целях контроля из партии в 100 ящиков взяли по одной детали из каждого ящика и измерили их длину. Требуется оценить вероятность того, что вычисленная по данным выборки средняя длина детали отличается от средней длины детали во всей партии не более чем на 0,3 мм, если известно, что среднее квадратическое отклонение не превышает 0,8 мм.

Занятие 6

Цель: дать знания положений изучаемого курса и привить навыки применения математических методов решения задач, в том числе, в сфере профессиональной деятельности.

1. Повторение определений основных понятий темы в форме контрольного опроса и проверка самостоятельной работы по выполнению домашнего задания.

2. Решить задачи:

а) Закон распределения двумерной случайной величины задан таблицей:

$X \setminus Y$	-1	1
0	0,1	0,06
1	0,3	0,18
2	0,2	0,16

Найти одномерные законы распределения компонент X , Y и $P(X \geq Y)$.

б) Закон распределения двумерной случайной величины задан таблицей:

$X \setminus Y$	1	2
-1	0,3	0,25
0	0,1	0,05
1	0,2	0,1

Описать условные законы распределения: случайной величины X при условии, что $Y = 2$, случайной величины Y при условии, что $X = -1$.

на дом

В условиях задачи 2б) описать условные законы распределения: случайной величины X при условии, что $Y = 1$, и случайной величины Y при условии, что $X = 1$.

$X \setminus Y$	0	2	5
1	0,1	0	0,2
2	0	0,3	0

3. Решить задачи:

4	0,1	0,3	0
---	-----	-----	---

а) Закон распределения двумерной случайной величины задан таблицей:

Определить, зависимы или независимы компоненты X, Y .

Определить $m_x, m_y, D_x, D_y, \sigma_x, \sigma_y, K_{XY}, \rho_{XY}$.

б) Закон распределения двумерной случайной величины задан таблицей:

$X \setminus Y$	0	1	2	3
1	0,1	0,1	0,1	0,1
2	0,05	0,05	0,05	0,05
3	0,1	0,1	0,1	0,1

Выяснить случайные величины: зависимы; коррелированы.

на дом

Закон распределения двумерной случайной величины, задан таблицей:

$X \setminus Y$	1	2
-1	0,15	0,05
0	0,3	0,05
1	0,35	0,1

Выяснить, зависимы или нет случайные величины.

4. Решить задачи:

Двумерная случайная величина задана законом распределения:

$X \setminus Y$	-1	0	1
-1	0,2	0,1	0,3
1	0,05	0,15	0,2

Найти условное математическое ожидание случайной величины X при условии, что $Y = 0$.

на дом

В условиях задачи 4) найти условное математическое ожидание случайной величины Y при условии, что $X = -1$.

Занятие 7

Цель: дать знания положений изучаемого курса и привить навыки применения математических методов решения задач, в том числе, в сфере профессиональной деятельности.

1. Повторение определений основных понятий темы в форме контрольного опроса и проверка самостоятельной работы по выполнению домашнего задания.

2. Двумерная случайная величина задана дифференциальной функцией

$$f_{XY}(x, y) = \begin{cases} C, & \text{при } x^2 + y^2 < 1; \\ 0, & \text{при } x^2 + y^2 \geq 1; \end{cases}$$

Найти постоянную C .

3. Известна функция плотности двумерной случайной величины

$$f_{XY}(x, y) = \begin{cases} axy, & \text{при } (x, y) \in D; \\ 0, & \text{при } (x, y) \notin D. \end{cases}$$

Область D – квадрат, ограниченный прямыми $x = 0; x = 2; y = 0; y = 2$. Найти коэффициент a .

4. Известна функция плотности двумерной случайной величины:

$$f_{XY}(x, y) = \frac{A}{\pi^2 (1 + x^2)(1 + y^2)}, x, y \in \mathfrak{R}.$$

Найти величину A и функцию распределения $F_{XY}(x, y)$.

5. Найти плотность распределения двумерной случайной величины, если известна функция распределения:

$$F_{XY}(x, y) = \begin{cases} 1 + e^{-2x-3y} - e^{-2x} - e^{-3y}, & x \geq 0, y \geq 0; \\ 0, & \text{иначе.} \end{cases}$$

на дом

Двумерная случайная величина задана дифференциальной функцией:

$$f_{XY}(x, y) = \begin{cases} C, & -1 \leq x < 2, 1 \leq y < 3; \\ 0, & \text{иначе.} \end{cases}$$

Найти постоянную C . Определить, зависимы или независимы компоненты X, Y . Найти функцию распределения $F_{XY}(x, y)$.

Тема 3. Случайные процессы**Занятие 1**

Цель: дать знания положений изучаемого курса и привить навыки применения математических методов решения задач, в том числе, в сфере профессиональной деятельности.

1. Повторение определений основных понятий темы в форме контрольного опроса и проверка самостоятельной работы по выполнению домашнего задания.

2. Решить задачу:

Случайный процесс определяется формулой: $X(t) = Xe^{-t} (t > 0)$, где X – случайная величина, распределенная по нормальному закону с параметрами a и σ^2 . Найти математическое ожидание, дисперсию, корреляционную и нормированную корреляционную функцию случайного процесса.

3. Решить задачи:

Построить граф состояний системы S – автомашины, которая может находиться в одном из пяти возможных состояний: S_1 – исправна, работает; S_2 – неисправна, ожидает осмотра; S_3 – осматривается; S_4 – ремонтируется; S_5 – списана.

на дом

Построить граф состояний системы S , представляющей собой электрическую лампочку, которая в случайный момент времени может быть либо включена, либо выключена, либо выведена из строя.

4. Решить задачи:

В моменты времени t_1, t_2, t_3 производится осмотр ЭВМ. Возможные состояния ЭВМ:

S_1 – полностью исправна; S_2 – имеет незначительные неисправности; S_3 – имеет существенные неисправности и может решать ограниченный круг задач; S_4 – полностью вышла из строя.

Матрица перехода имеет вид:

$$\begin{pmatrix} 0,3 & 0,4 & 0,1 & 0,2 \\ 0 & 0,2 & 0,5 & 0,3 \\ 0 & 0 & 0,4 & 0,6 \\ 0 & 0 & 0 & 1 \end{pmatrix}$$

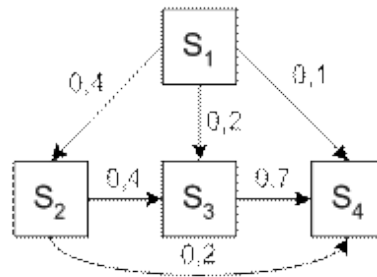
Построить граф состояний системы. Определить вид матрицы перехода после трех проверок.

на дом

По некоторой цели ведется стрельба четырьмя выстрелами в моменты времени t_1, t_2, t_3, t_4 .

Возможные состояния цели (системы S): S_1 – цель невредима; S_2 – цель незначительно повреждена; S_3 – цель получила существенные повреждения; S_4 – цель полностью поражена (не может функционировать).

Размеченный граф состояний системы показан на рисунке:



В начальный момент цель находится в состоянии S_1 (не повреждена). Определить вероятности состояний цели после четырех выстрелов.

Занятие 2

Цель: дать знания положений изучаемого курса и привить навыки применения математических методов решения задач, в том числе, в сфере профессиональной деятельности.

1. Повторение определений основных понятий темы в форме контрольного опроса и проверка самостоятельной работы по выполнению домашнего задания.
2. Решить задачи:

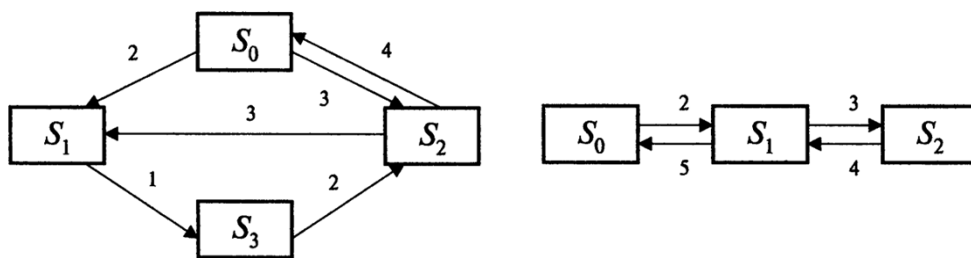
На автоматическую телефонную станцию поступает простейший (стационарный пуассоновский) поток вызовов с интенсивностью $\lambda = 1,2$ вызовов в минуту. Найти вероятность того, что за две минуты: а) не придет ни одного вызова; б) придет ровно один вызов; в) придет хотя бы один вызов.

на дом

Среднее число заказов на такси, поступающих на диспетчерский пункт таксопарка в одну минуту, равно 3. Найти вероятность того, что за две минуты поступит: а) 4 вызова; б) хотя бы один; в) ни одного вызова. (Поток заявок простейший – стационарный пуассоновский).

3. Решить задачу:

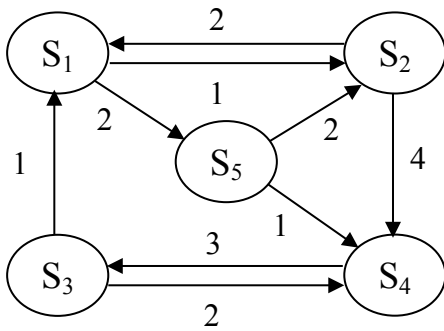
Найти предельные вероятности для систем S , граф которых изображен на рисунке: а) – в аудитории, б) – *на дом*.



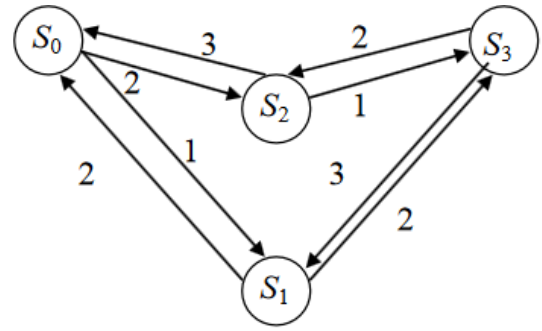
а)

б)

4. Найти стационарные вероятности для Марковского процесса, заданного графом переходов состояний и значениями интенсивностей перехода:



на дом



Занятие 3

Цель: дать знания положений изучаемого курса и привить навыки применения математических методов решения задач, в том числе, в сфере профессиональной деятельности.

1. Повторение определений основных понятий темы в форме контрольного опроса и проверка самостоятельной работы по выполнению домашнего задания.
2. Решить задачи:

а) Имеется станция связи с двумя каналами ($n = 2$), интенсивность потока заявок $\lambda = 1,5$ заявки в минуту; среднее время обслуживания одной заявки $\bar{t}_{об} = 2$ мин., все потоки событий – простейшие. Найти финальные вероятности состояний и характеристики эффективности СМО.

б) Система ПВО из 6 комплексов прикрывает объект, на который производится налет группой самолетов со средней интенсивностью $\lambda = 4$ сам./мин. Среднее время обстрела одной цели одним средством $\bar{t}_{обс} = 0,5$ мин. Определить основные показатели системы ПВО в предположении малого времени пребывания самолетов в зоне ее действия (СМО с отказами).

на дом

в) На автомобильную мойку, состоящую из 3 боксов, прибывает в среднем 4 автомобиля в час, для обслуживания каждого из которых затрачивает в среднем 0,5 часа. Ввиду активной конкуренции в этой сфере бизнеса прибывший автомобиль должен обслуживаться немедленно после прибытия. Оценить эффективность работы предприятия.

3. Решить задачи:

а) Воздушная разведка вскрывает в среднем 6 объектов противника в час, для поражения которых выделяется 3 дежурных огневых средства. Огневое средство на поражение объекта затрачивает в среднем 0,5 часа. Ввиду быстрого изменения обстановки вскрытый объект должен обстреливаться немедленно после его обнаружения. Оценить эффективность огневых средств, выделенных для уничтожения объектов противника, которые вскрываются воздушной разведкой.

б) Определить, сколькими линиями телефонной связи необходимо соединить два пункта управления для обеспечения надежности телефонного обмена не хуже 0,8 (отказ в соединении по причине занятости каналов в среднем за единицу времени должны получать не более 20% абонентов). По опыту за одну минуту поступает в среднем 1,5 заявки на переговоры, а средняя продолжительность разговоров составляет 2 минуты.

на дом

в) Рассчитайте потребное число каналов для обеспечения телефонной связи на направлении связи с входящим потоком $\lambda = 20$ заявок в час. Вероятность обслуживания заявок должна быть не менее 0,9. Среднее время обслуживания одного разговора - 6 мин.

Занятие 4

Цель: дать знания положений изучаемого курса и привить навыки применения математических методов решения задач, в том числе, в сфере профессиональной деятельности.

1. Повторение определений основных понятий темы в форме контрольного опроса и проверка самостоятельной работы по выполнению домашнего задания.

2. Решить задачи:

а) В вычислительном центре работает 5 персональных компьютеров (ПК). Простейший поток задач, поступающих на ВЦ, имеет интенсивность $\lambda = 10$ задач в час. Среднее время решения задачи равно 12 мин. Заявка получает отказ, если все ПК заняты. Найдите вероятностные характеристики системы обслуживания (ВЦ).

на дом

б) Рассматривается круглосуточная работа пункта проведения профилактического осмотра автомашин с четырьмя каналами (четырьмя группами проведения осмотра). На осмотр и выявление дефектов каждой машины затрачивается в среднем 0,5 ч. На осмотр поступает в среднем 36 машин в сутки. Поток заявок и обслуживания – простейшие. Если машина, прибывшая в пункт осмотра, не застаёт ни одного канала свободным, она покидает пункт осмотра не обслуженной.

Найти минимальное число каналов, при котором относительная пропускная способность пункта осмотра будет не менее 0,9.

3. Решить задачи:

а) Имеется двухканальная СМО с отказами. На ее вход поступает поток заявок с интенсивностью $\lambda = 4$ заявки/час. Среднее время обслуживания одной заявки $t_{\text{обсл}} = 0,8$ часа. каждая обслуженная заявка приносит доход 120 руб. Содержание каждого канала обходится в 80 руб./час. Выгодно ли в экономическом отношении увеличить число каналов СМО до трех?

б) В предвыборном штабе некой партии для приема и обработки донесений от наблюдателей на избирательных участках выделены 3 сотрудника. Плотность потока донесений – 15 сообщений в час; среднее время обработки донесения одним сотрудником равно 12 минут. Каждый из сотрудников может принимать донесения от наблюдателя, однако они теряются, если поступают в то время, когда все заняты обработкой других донесений.

Какое количество сотрудников необходимо иметь в группе для обработки не менее 85% поступающих донесений.

на дом

в) Интенсивность потока телефонных звонков в агентство по заказу железнодорожных билетов, имеющему один телефон, составляет 16 вызовов в час. Продолжительность оформления заказа на билет равна 2,4 минуты. Определить относительную и абсолютную пропускную способность этой СМО и вероятность отказа (занятости телефона). Сколько телефонов должно быть в агентстве, чтобы относительная пропускная способность была не менее 0,75.

Занятие 5

Цель: дать знания положений изучаемого курса и привить навыки применения математических методов решения задач, в том числе, в сфере профессиональной деятельности.

1. Повторение определений основных понятий темы в форме контрольного опроса и проверка самостоятельной работы по выполнению домашнего задания.

2. Решить задачу:

а) Дана двухканальная СМО с ожиданием. Интенсивность входящего потока заявок $\lambda = 12$ заявок в минуту. Интенсивность обслуживания одним каналом $\mu = 8$. Найти среднюю длину

очереди, среднее время ожидания в очереди, среднее время пребывания заявок в системе, коэффициент занятости каналов обслуживания.

на дом

б) Одноканальная СМО представляет собой железнодорожную сортировочную станцию, на которую поступает простейший поток составов с интенсивностью $\lambda = 2$ (состава в час). Обслуживание (расформирование) состава длится случайное (показательное) время со средним значением $\bar{t}_{об} = 20$ (мин.). В парке прибытия станции имеется два пути, на которых могут ожидать обслуживания прибывающие составы; если оба пути заняты, составы вынуждены ждать на внешних путях.

Требуется найти (для стационарного режима работы станции): среднее время \bar{t}_c пребывания состава на станции (на внутренних и внешних путях и под обслуживанием), среднее число $\bar{n}_{оч}$ составов, ожидающих очереди на расформирование, среднее время $\bar{t}_{ож}$ пребывания состава в очереди.

3. Решить задачи:

а) Железнодорожная касса по продаже билетов с двумя окошками представляет собой двухканальную СМО с неограниченной очередью, устанавливающейся сразу к двум окошкам (ближайший в очереди пассажир занимает освободившееся окошко). Касса продает билеты в пункты *A* и *B*. Интенсивность потока пассажиров, желающих купить билет, для обоих пунктов одинакова: $\lambda_A = \lambda_B = 0,45$ пассажира в минуту, а в сумме они образуют общий поток заявок с интенсивностью $\lambda_A + \lambda_B = 0,9$. Кассир тратит на обслуживание пассажира в среднем две минуты.

В целях ускорения обслуживания поступило рационализаторское предложение: вместо одной кассы, продающей билеты и в пункты *A* и *B*, создать две специализированные кассы (по одному окошку в каждой), продающие билеты одна – только в пункт *A*, другая – только в пункт *B*. Проверить полезность рацпредложения.

на дом

б) В мастерской по ремонту аппаратуры работает 5 опытных радио-мастеров. Все радио-мастера имеют примерно одинаковый опыт: каждый в среднем может отремонтировать в течение дня 2,5 прибора. В среднем в течение дня в ремонт поступает 10 приборов.

Определить основные показатели данной СМО: вероятность того, что очередной поступивший в ремонт прибор застанет всех мастеров занятыми; среднее время ремонта каждого прибора; среднее время ожидания прибора в очереди; среднюю длину очереди; коэффициент загрузки мастеров.

4. Решить задачи:

На пункт техосмотра поступает простейший поток автомобилей интенсивности $\lambda = 4$ машины в час. Время осмотра распределено по показательному закону и равно в среднем 17 мин., в очереди может находиться не более 5 автомобилей. Определите вероятностные характеристики пункта техосмотра в установившемся режиме.

на дом

На промышленном предприятии решается вопрос о том, сколько потребуется механиков для работы в ремонтном цехе. Пусть предприятие имеет 10 машин, требующих ремонта с учетом числа ремонтирующихся. Отказы машин происходят с частотой $\lambda = 10$ отк./час. Для устранения неисправности механику требуется в среднем $t = 3$ мин. Распределение моментов возникновения отказов является пуассоновским, а продолжительность выполнения

ремонтных работ распределена экспоненциально. Возможно организовать 4 или 6 рабочих мест в цехе для механиков предприятия. Необходимо выбрать наиболее эффективный вариант обеспечения ремонтного цеха рабочими местами для механиков.

Занятие 6

Цель: дать знания положений изучаемого курса и привить навыки применения математических методов решения задач, в том числе, в сфере профессиональной деятельности.

1. Повторение определений основных понятий темы в форме контрольного опроса и проверка самостоятельной работы по выполнению домашнего задания.

2. Решить задачи:

а) Дана одноканальная СМО с ожиданием. Интенсивность входящего потока заявок $\lambda = 2$ заявки в мин. Какова должна быть интенсивность обслуживания одним каналом, чтобы средняя длина очереди была равна $\frac{1}{2}$?

на дом

б) Дана одноканальная СМО с ожиданием. Интенсивность обслуживания одним каналом $\mu = 4$ заявки в минуту. Какова должна быть интенсивность входящего потока заявок, чтобы средняя длина очереди была равна $\frac{9}{4}$?

3. Решить задачи:

а) В порту имеется один причал для разгрузки судов. Интенсивность потока судов равна 0,4 (судов в сутки). Среднее время разгрузки одного судна составляет 2 суток. Предполагается, что очередь может быть неограниченной длины.

Найти показатели эффективности работы причала, а также вероятность того, что ожидают разгрузки не более чем 2 судна.

на дом

б) По условию предыдущей задачи найти показатели эффективности работы причала (вероятность того, что причал свободен; вероятность того, что приходящее судно покинет причал без разгрузки; относительная пропускная способность причала; абсолютная пропускная способность причала; среднее число судов, находящихся у причала; среднее время пребывания судна у причала; среднее время ожидания разгрузки (пребывания в очереди); среднее число судов, ожидающих разгрузку (длина очереди).

Известно, что приходящее судно покидает причал (без разгрузки), если в очереди на разгрузку стоит более 3 судов.

4. Решить задачу:

Междугородный переговорный пункт имеет четыре телефонных аппарата. В среднем за сутки поступает 320 заявок на переговоры. Средняя длительность переговоров составляет 5 мин. Длина очереди не должна превышать 6 абонентов. Потоки заявок и обслуживаний простейшие. Определить характеристики обслуживания переговорного пункта в стационарном режиме (вероятность простоя каналов, вероятность отказа, вероятность обслуживания, среднее число занятых каналов, среднее число заявок в очереди, среднее число заявок в системе, абсолютную пропускную способность, относительную пропускную способность, среднее время заявки в очереди, среднее время заявки в системе, среднее время заявки под обслуживанием).

на дом

В универсаме к узлу расчета поступает поток покупателей с интенсивностью $\lambda = 81$ чел. в час. Средняя продолжительность обслуживания контролером-кассиром одного покупателя

$\bar{t}_{ог} = 2$ мин. Определить минимальное количество контролеров-кассиров n_{\min} , при котором очередь не будет расти до бесконечности, и соответствующие характеристики обслуживания при $n = n_{\min}$ (вероятность того, что в узле расчета отсутствуют покупатели; средняя длина очереди; среднее время ожидания в очереди; среднее время пребывания заявок в системе (ожидание в очереди и обслуживание); среднее число занятых обслуживанием каналов и коэффициент занятости каналов обслуживания)

4. Материалы текущего контроля успеваемости обучающихся и фонд оценочных средств промежуточной аттестации по дисциплине

4.1. Формы и методы текущего контроля успеваемости и промежуточной аттестации.

В ходе реализации дисциплины Б.1.Б.11.03 "Теория вероятностей" рекомендуется применять следующие методы текущего контроля успеваемости обучающихся:

- при проведении занятий лекционного типа: опрос.
- при проведении практических занятий: опрос, проверка выполнения домашнего задания.

4.1.1. В ходе реализации дисциплины Б.1.Б.11.03 "Теория вероятностей" используются следующие методы текущего контроля успеваемости обучающихся:

Контрольная работа по дисциплине "Теория вероятностей" выполняется в письменном виде по индивидуальным вариантам, построенным по типовым заданиям. Умения и навыки обучающегося на контрольной работе оцениваются как «отлично», «хорошо», «удовлетворительно», «неудовлетворительно» с возможностью последующего конвертирования в систему ECTS и БРС¹. Итоговая оценка по дисциплине является суммой баллов результатов текущего контроля и промежуточных аттестаций.

4.2. Материалы текущего контроля успеваемости.

Тема 1. Случайные события.

Вопросы для опроса:

1. Основные понятия теории вероятностей. Случайные события.
2. Вероятность события (классическое, статистическое и геометрическое определения вероятности). Основные понятия комбинаторики.
3. Действия над событиями. Теоремы сложения и умножения вероятностей. Условная вероятность. Зависимые и независимые события. Формула полной вероятности. Формула Байеса.
4. Повторные независимые испытания. Формула Бернулли. Теорема Пуассона. Локальная и интегральная теоремы Муавра-Лапласа.

Задания для контрольной работы:

Задача 1. Бросают два кубика. Суммируют число очков, выпавших на верхних гранях кубиков.

Построить множество элементарных событий Ω и его подмножество, соответствующее указанному событию A . Найти вероятность события A . Построить подмножество, соответствующее событию \bar{A} (дополнение A). Найти его вероятность.

Вариант	Событие A
1	$A = \{\text{сумма очков больше } 3\}$

¹ При условии, если балльно-рейтинговой система (БРС) внедрена в учебный процесс структурным подразделением/филиалом Академии

2	$A = \{\text{сумма очков больше } 4\}$
3	$A = \{\text{сумма очков больше } 5\}$
4	$A = \{\text{сумма очков больше } 6\}$
5	$A = \{\text{сумма очков больше } 7\}$
6	$A = \{\text{сумма очков больше } 8\}$
7	$A = \{\text{сумма очков больше } 9\}$
8	$A = \{\text{сумма очков больше } 10\}$
9	$A = \{\text{сумма очков больше } 11\}$
10	$A = \{\text{сумма очков больше } 2\}$

Задача 2. В одном сосуде находятся B_1 белых и $Ч_1$ черных шаров. Во втором – B_2 белых и $Ч_2$ черных. Бросают два кубика. Если сумма очков, выпавших на верхних гранях, меньше 10, берут шар из первого сосуда, если больше или равна 10 – из второго.

Вариант	Условие задачи	
1	$B_1 = 7; Ч_1 = 6; B_2 = 5; Ч_2 = 9$	Вынут белый шар. Какова вероятность того, что сумма очков была не меньше 10?
2	$B_1 = 7; Ч_1 = 6; B_2 = 5; Ч_2 = 9$	Вынут черный шар. Какова вероятность того, что сумма очков была меньше 10?
3	$B_1 = 6; Ч_1 = 5; B_2 = 7; Ч_2 = 9$	Вынут белый шар. Какова вероятность того, что сумма очков была меньше 10?
4	$B_1 = 7; Ч_1 = 5; B_2 = 9; Ч_2 = 6$	Вынут черный шар. Какова вероятность того, что сумма очков была не меньше 10?
5	$B_1 = 5; Ч_1 = 6; B_2 = 9; Ч_2 = 6$	Вынут черный шар. Какова вероятность того, что сумма очков была не меньше 10?
6	$B_1 = 5; Ч_1 = 9; B_2 = 7; Ч_2 = 6$	Вынут белый шар. Какова вероятность того, что сумма очков была меньше 10?
7	$B_1 = 5; Ч_1 = 7; B_2 = 6; Ч_2 = 9$	Вынут черный шар. Какова вероятность того, что сумма очков была не меньше 10?
8	$B_1 = 5; Ч_1 = 7; B_2 = 9; Ч_2 = 6$	Вынут белый шар. Какова вероятность того, что сумма очков была меньше 10?
9	$B_1 = 4; Ч_1 = 8; B_2 = 9; Ч_2 = 6$	Вынут белый шар. Какова вероятность того, что сумма очков была меньше 10?
10	$B_1 = 8; Ч_1 = 4; B_2 = 6; Ч_2 = 9$	Вынут черный шар. Какова вероятность того, что сумма очков была не меньше 10?

Литература:

1. Попов, А. М. Теория вероятностей и математическая статистика : учебник и практикум для бакалавриата и специалитета / А. М. Попов, В. Н. Сотников ; под ред. А. М. Попова. — 2-е изд., испр. и доп. — М. : Издательство Юрайт, 2019. — 434 с. — (Серия : Бакалавр и специалист). — ISBN 978-5-534-01009-1. — Режим доступа : www.biblio-online.ru/book/2657E488-ADFB-4941-9BB2-D919CAB898A2.

2. Попов, А. М. Теория вероятностей : учеб. пособие для прикладного бакалавриата / А. М. Попов, В. Н. Сотников. — М. : Издательство Юрайт, 2019. — 215 с. — (Серия : Бакалавр. Прикладной курс). — ISBN 978-5-9916-9791-0. — Режим доступа : www.biblio-online.ru/book/D808FE8D-7D98-4739-BEA8-9E99588AA131.

3. Ковалев, Е. А. Теория вероятностей и математическая статистика для экономистов: учебник и практикум для бакалавриата, специалитета и магистратуры / Е. А. Ковалев, Г. А. Медведев ; под общ. ред. Г. А. Медведева. — 2-е изд., испр. и доп. — М. : Издательство Юрайт, 2019. — 284 с. — (Серия : Бакалавр. Специалист. Магистр). — ISBN 978-5-534-01082-4. — www.biblio-online.ru/book/B7C35CEE-D884-4E72-9410-1EAAE23A47B0.

Тема 2. Случайные величины.

Вопросы для опроса:

1. Случайная величина и ее закон распределения. Дискретные и непрерывные случайные величины.
2. Функция распределения случайной величины. Плотность распределения непрерывной случайной величины. Числовые характеристики случайных величин: математическое ожидание, дисперсия, среднее квадратическое отклонение, мода, медиана, квантили. Их свойства.
3. Начальные и центральные моменты случайных величин.
4. Основные законы распределения случайных величин. Распределения случайных величин, представляющих функции нормальных величин. Неравенства Маркова и Чебышева.
5. Закон больших чисел. Теоремы Чебышева, Бернулли и Пуассона. Центральная предельная теорема.
6. Многомерные случайные величины. Функция распределения и плотность двумерной случайной величины. Зависимые и независимые случайные величины. Условные законы распределения.
7. Числовые характеристики двумерных случайных величин. Ковариация, коэффициент корреляции.

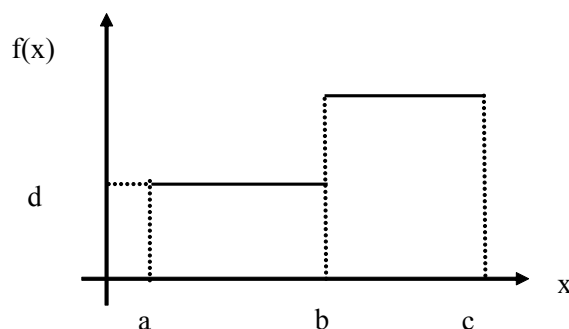
Задания для контрольной работы:

Задача 1. Какие из указанных функций являются функциями распределения случайных величин? Пояснить. Построить графики.

<i>Вариант</i>	<i>A</i>	<i>B</i>
1	$f(x) = \begin{cases} 0, & x < 0 \\ x, & 0 \leq x < 1 \\ 1, & x \geq 1 \end{cases}$	$f(x) = \begin{cases} 1, & x < 0 \\ 1 - x^2, & 0 \leq x < 1 \\ 0, & x \geq 1 \end{cases}$
2	$f(x) = \begin{cases} 1, & x < 2 \\ 3 - x, & 2 \leq x < 3 \\ 0, & x \geq 3 \end{cases}$	$f(x) = \begin{cases} 0, & x < 2 \\ (x - 2)^2, & 2 \leq x < 3 \\ 1, & x \geq 3 \end{cases}$
3	$f(x) = \begin{cases} 0, & x < 3 \\ x - 3, & 3 \leq x < 4 \\ 1, & x \geq 4 \end{cases}$	$f(x) = \begin{cases} 1, & x < 3 \\ (4 - x)^2, & 3 \leq x < 4 \\ 0, & x \geq 4 \end{cases}$
4	$f(x) = \begin{cases} 1, & x < 4 \\ 5 - x, & 4 \leq x < 5 \\ 0, & x \geq 5 \end{cases}$	$f(x) = \begin{cases} 0, & x < 4 \\ x - 4, & 4 \leq x < 5 \\ 1, & x \geq 5 \end{cases}$
5	$f(x) = \begin{cases} 0, & x < 5 \\ (x - 5)^2, & 5 \leq x < 6 \\ 1, & x \geq 6 \end{cases}$	$f(x) = \begin{cases} 1, & x < 5 \\ 6 - x, & 5 \leq x < 6 \\ 0, & x \geq 6 \end{cases}$
6	$f(x) = \begin{cases} 1, & x < 6 \\ 7 - x, & 6 \leq x < 7 \\ 0, & x \geq 7 \end{cases}$	$f(x) = \begin{cases} 0, & x < 6 \\ x - 6, & 6 \leq x < 7 \\ 1, & x \geq 7 \end{cases}$

7	$f(x) = \begin{cases} 0, & x < 7 \\ x-7, & 7 \leq x < 8 \\ 1, & x \geq 8 \end{cases}$	$f(x) = \begin{cases} 1, & x < 7 \\ (8-x)^2, & 7 \leq x < 8 \\ 0, & x \geq 8 \end{cases}$
8	$f(x) = \begin{cases} 1, & x < 8 \\ 9-x, & 8 \leq x < 9 \\ 0, & x \geq 9 \end{cases}$	$f(x) = \begin{cases} 0, & x < 8 \\ (x-8)^2, & 8 \leq x < 9 \\ 1, & x \geq 9 \end{cases}$
9	$f(x) = \begin{cases} 0, & x < 9 \\ x-9, & 9 \leq x < 10 \\ 1, & x \geq 10 \end{cases}$	$f(x) = \begin{cases} 1, & x < 9 \\ 10-x, & 9 \leq x < 10 \\ 0, & x \geq 10 \end{cases}$
10	$f(x) = \begin{cases} 1, & x < 10 \\ 11-x, & 10 \leq x < 11 \\ 0, & x \geq 11 \end{cases}$	$f(x) = \begin{cases} 0, & x < 10 \\ x-10, & 10 \leq x < 11 \\ 1, & x \geq 11 \end{cases}$

Задача 2. Случайная величина X задана плотностью распределения вероятностей (см. график). Построить график функции распределения вероятностей, найти математическое ожидание и дисперсию случайной величины.



Вариант	a	b	c	d	Вариант	a	b	c	d
1	0	0.3	1.15	0.5	6	1	1.7	2.28	0.6
2	0	0.6	1.3	0.5	7	1	2	2.6	0.4
3	0	0.5	1.25	0.5	8	2	2.5	3.3	0.4
4	0.5	1	1.7	0.6	9	2	3	3.6	0.4
5	1	1.5	2.2	0.6	10	3	4	4.4	0.6

Литература:

1. Попов, А. М. Теория вероятностей и математическая статистика : учебник и практикум для бакалавриата и специалитета / А. М. Попов, В. Н. Сотников ; под ред. А. М. Попова. — 2-е изд., испр. и доп. — М. : Издательство Юрайт, 2019. — 434 с. — (Серия : Бакалавр и специалист). — ISBN 978-5-534-01009-1. — Режим доступа : www.biblio-online.ru/book/2657E488-ADFB-4941-9BB2-D919CAB898A2.

2. Попов, А. М. Теория вероятностей : учеб. пособие для прикладного бакалавриата / А. М. Попов, В. Н. Сотников. — М. : Издательство Юрайт, 2019. — 215 с. — (Серия : Бакалавр. Прикладной курс). — ISBN 978-5-9916-9791-0. — Режим доступа : www.biblio-online.ru/book/D808FE8D-7D98-4739-BEA8-9E99588AA131.

3. Ковалев, Е. А. Теория вероятностей и математическая статистика для экономистов: учебник и практикум для бакалавриата, специалитета и магистратуры / Е. А. Ковалев, Г. А. Медведев ; под общ. ред. Г. А. Медведева. — 2-е изд., испр. и доп. — М. :

Издательство Юрайт, 2019. — 284 с. — (Серия : Бакалавр. Специалист. Магистр). — ISBN 978-5-534-01082-4. — www.biblio-online.ru/book/B7C35CEE-D884-4E72-9410-1EAAE23A47B0.

Тема 3. Случайные процессы и элементы теории массового обслуживания.

Вопросы для опроса:

1. Случайные процессы и их характеристики.
2. Марковские процессы. Потоки событий. Уравнения Чепмена-Колмогорова. Основные понятия теории массового обслуживания.
3. Процессы гибели и размножения. Системы массового обслуживания с отказом и с ожиданием.
4. Методы теории массового обслуживания в решении экономических задач.

Задания для контрольной работы:

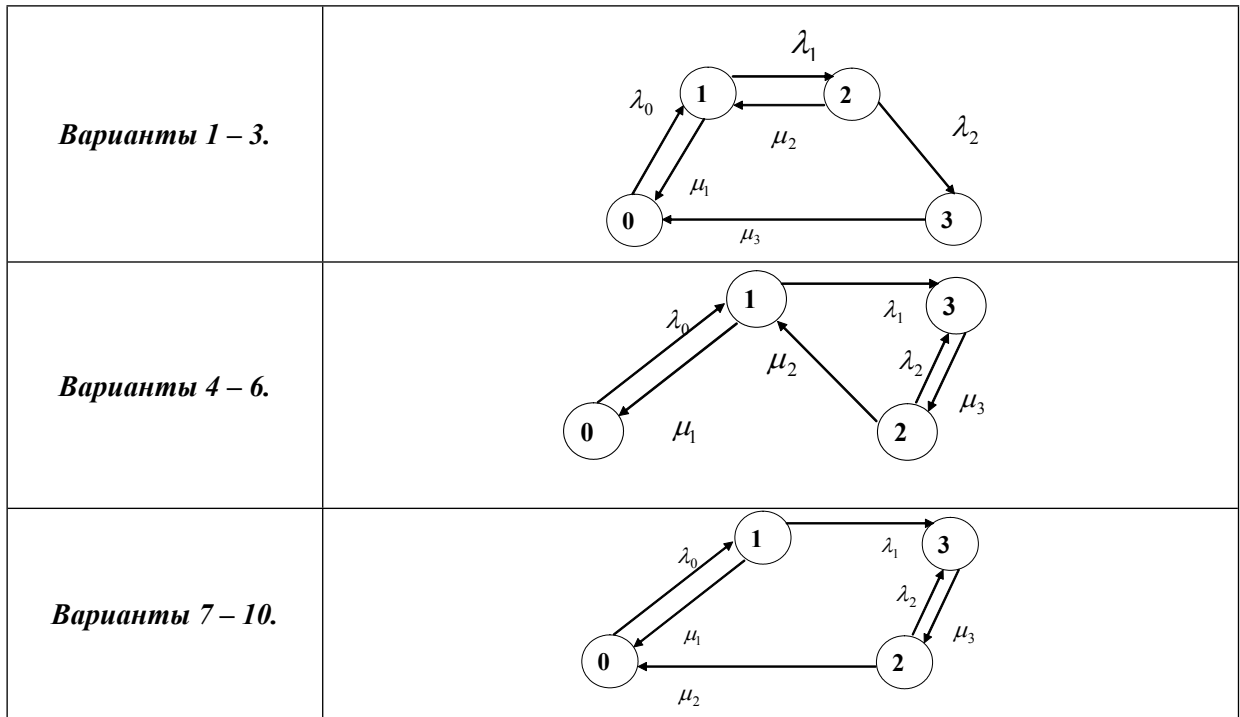
Задача 1. Закон распределения двумерной дискретной случайной величины (X, Y) задан таблицей:

$X \backslash Y$	0	1	2	3
-1	0,02	0,03	0,09	0,01
0	0,04	0,2	0,16	0,1
1	0,05	0,1	0,15	0,05

Найти условные законы распределения:

Вариант	
1	случайной величины X при условии $Y = 0$ и случайной величины Y при условии $X = -1$
2	случайной величины X при условии $Y = 0$ и случайной величины Y при условии $X = 0$
3	случайной величины X при условии $Y = 0$ и случайной величины Y при условии $X = 1$
4	случайной величины X при условии $Y = 1$ и случайной величины Y при условии $X = 1$
5	случайной величины X при условии $Y = 1$ и случайной величины Y при условии $X = 0$
6	случайной величины X при условии $Y = 1$ и случайной величины Y при условии $X = -1$
7	случайной величины X при условии $Y = 2$ и случайной величины Y при условии $X = -1$
8	случайной величины X при условии $Y = 3$ и случайной величины Y при условии $X = 0$
9	случайной величины X при условии $Y = 2$ и случайной величины Y при условии $X = 1$
10	случайной величины X при условии $Y = 3$ и случайной величины Y при условии $X = 1$

Задача 2. Найти стационарные вероятности для случайного процесса N , заданного графом переходов состояний:



<i>Вариант</i>	λ_0	λ_1	λ_2	μ_1	μ_2	μ_3
1	1	1	1	1	2	3
2	1	2	3	1	1	1
3	3	2	1	1	2	3
4	1	1	1	1	2	3
5	1	2	3	1	1	1
6	3	2	1	1	2	3
7	1	1	1	1	2	3
8	1	2	3	1	1	1
9	3	2	1	1	2	1
10	2	2	1	1	2	2

Литература:

1. Попов, А. М. Теория вероятностей и математическая статистика : учебник и практикум для бакалавриата и специалиста / А. М. Попов, В. Н. Сотников ; под ред. А. М. Попова. — 2-е изд., испр. и доп. — М. : Издательство Юрайт, 2019. — 434 с. — (Серия : Бакалавр и специалист). — ISBN 978-5-534-01009-1. — Режим доступа : www.biblio-online.ru/book/2657E488-ADFB-4941-9BB2-D919CAB898A2.

2. Попов, А. М. Теория вероятностей : учеб. пособие для прикладного бакалавриата / А. М. Попов, В. Н. Сотников. — М. : Издательство Юрайт, 2019. — 215 с. — (Серия : Бакалавр. Прикладной курс). — ISBN 978-5-9916-9791-0. — Режим доступа : www.biblio-online.ru/book/D808FE8D-7D98-4739-BEA8-9E99588AA131.

3. Ковалев, Е. А. Теория вероятностей и математическая статистика для экономистов: учебник и практикум для бакалавриата, специалиста и магистратуры / Е. А. Ковалев, Г. А. Медведев ; под общ. ред. Г. А. Медведева. — 2-е изд., испр. и доп. — М. : Издательство Юрайт, 2019. — 284 с. — (Серия : Бакалавр. Специалист. Магистр). — ISBN 978-5-534-01082-4. — www.biblio-online.ru/book/B7C35CEE-D884-4E72-9410-1EAAE23A47B0.

4.3. Оценочные средства для промежуточной аттестации.

4.3.1. Формируемые компетенции

Код компетенции	Наименование компетенции	Код этапа освоения компетенции	Наименование этапа освоения компетенции
УК ОС-2	Способность применять проектный подход при решении профессиональных задач	УК ОС-2.3	Способность с помощью экономико-математических моделей и методов принимать проектные решения
ОПК-1	Способность применять математический инструментарий для решения экономических задач	ОПК – 1.2	Способность применять знания основ математического аппарата и инструментальных средств для проведения финансово-экономических расчетов

4.3.2 Типовые оценочные средства

Оценивание студентов при текущем контроле и промежуточной аттестации проводится с использованием балльно-рейтинговой системы по 100-балльной шкале. Текущий контроль оценивается в пределах 60 баллов. Он включает баллы по посещаемости занятий и успеваемости на практических занятиях. Посещение студентом каждого занятия оценивается в 1 балл, но не более 16 баллов суммарно (16 занятий x 1 балл). Успеваемость студента каждого занятия оценивается в пределах 44 баллов. Итоговый контроль оценивается в пределах 40 баллов. В Институте установлена шкала перевода оценки из балльно-рейтинговой системы в бинарную систему для осуществления промежуточной аттестации в форме зачета: «не зачтено» - 0-50 баллов; «зачтено» - от 51 до 100 баллов, Passed (P) – 100-51 балл – «зачтено»; Not passed (NP«-») – 50 и менее баллов – «не зачтено». Минимальное количество баллов для выставления обучающемуся зачета составляет 51 балл.

Перечень вопросов для подготовки к контрольной работе

1. Основные понятия теории вероятностей. Случайные события и их классификация.
2. Вероятность события. Классическое, статистическое и геометрическое определения.
3. Основные понятия комбинаторики.
4. Действия над событиями.
5. Теоремы сложения и умножения вероятностей.
6. Условная вероятность. Зависимые и независимые события.
7. Формула полной вероятности. Формула Байеса.
8. Повторные независимые испытания. Формула Бернулли. Теорема Пуассона.
9. Локальная и интегральная теоремы Муавра-Лапласа.
10. Случайная величина и ее закон распределения. Дискретные и непрерывные случайные величины.
11. Основные законы распределения случайных величин.
12. Распределения случайных величин, представляющих функции нормальных величин.
13. Функция распределения случайной величины. Плотность распределения непрерывной случайной величины. Их свойства.
14. Числовые характеристики случайных величин: математическое ожидание, дисперсия, среднее квадратическое отклонение, их свойства.

15. Мода, медиана, квантили. Начальные и центральные моменты случайных величин.
16. Неравенства Маркова и Чебышева.
17. Закон больших чисел. Теоремы Чебышева и Бернулли. Теорема Пуассона.
18. Центральная предельная теорема.
19. Многомерные случайные величины.
20. Функция и плотность распределения двумерной случайной величины. Их свойства.
21. Зависимые и независимые случайные величины. Условные законы распределения.
22. Числовые характеристики двумерных случайных величин. Ковариация, коэффициент корреляции.
23. Случайные процессы и их характеристики.
24. Марковские процессы.
25. Потоки событий.
26. Уравнения Чепмена-Колмогорова.
27. Основные понятия теории массового обслуживания.
28. Процессы гибели и размножения.
29. Системы массового обслуживания с отказом
30. Системы массового обслуживания с ожиданием.
31. Методы теории массового обслуживания в решении экономических задач.

5. Методические указания для обучающихся по освоению дисциплины

Рекомендации по планированию и организации времени, необходимого на изучение дисциплины (модуля)

Структура времени, необходимого на изучение дисциплины

Форма изучения дисциплины	Время, затрачиваемое на изучение дисциплины, %
Изучение литературы, рекомендованной в учебной программе	40
Решение задач, практических упражнений и ситуационных примеров	40
Изучение тем, выносимых на самостоятельное рассмотрение	20
Итого	100

Рекомендации по подготовке к практическому (семинарскому) занятию

Практическое (семинарское) занятие – одна из основных форм организации учебного процесса, представляющая собой коллективное обсуждение студентами теоретических и практических вопросов, решение практических задач под руководством преподавателя. Основной целью практического (семинарского) занятия является проверка глубины понимания студентом изучаемой темы, учебного материала и умения изложить его содержание ясным и четким языком, развитие самостоятельного мышления и творческой активности у студента. На практических (семинарских) занятиях предполагается рассматривать наиболее важные, существенные, сложные вопросы

которые, наиболее трудно усваиваются студентами. При этом готовиться к практическому (семинарскому) занятию всегда нужно заранее. Подготовка к практическому (семинарскому) занятию включает в себя следующее:

- обязательное ознакомление с планом занятия, в котором содержатся основные вопросы, выносимые на обсуждение;
- изучение конспектов лекций, соответствующих разделов учебника, учебного пособия, содержания рекомендованных нормативных правовых актов;
- работа с основными терминами (рекомендуется их выучить);
- изучение дополнительной литературы по теме занятия, делая при этом необходимые выписки, которые понадобятся при обсуждении на семинаре;
- формулирование своего мнения по каждому вопросу и аргументированное его обоснование;
- запись возникших во время самостоятельной работы с учебниками и научной литературы вопросов, чтобы затем на семинаре получить на них ответы;
- обращение за консультацией к преподавателю.

Практические (семинарские) занятия включают в себя и специально подготовленные рефераты, выступления по какой-либо сложной или особо актуальной проблеме, решение задач. На практическом (семинарском) занятии студент проявляет свое знание предмета, корректирует информацию, полученную в процессе лекционных и внеаудиторных занятий, формирует определенный образ в глазах преподавателя, получает навыки устной речи и культуры дискуссии, навыки практического решения задач.

Рекомендации по изучению методических материалов

Методические материалы по дисциплине позволяют студенту оптимальным образом организовать процесс изучения данной дисциплины. Методические материалы по дисциплине призваны помочь студенту понять специфику изучаемого материала, а в конечном итоге – максимально полно и качественно его освоить. В первую очередь студент должен осознать предназначение методических материалов: структуру, цели и задачи. Для этого он знакомится с преамбулой, оглавлением методических материалов, говоря иначе, осуществляет первичное знакомство с ним. В разделе, посвященном методическим рекомендациям по изучению дисциплины, приводятся советы по планированию и организации необходимого для изучения дисциплины времени, описание последовательности действий студента («сценарий изучения дисциплины»), рекомендации по работе с литературой, советы по подготовке к экзамену и разъяснения по поводу работы с тестовой системой курса и над домашними заданиями. В целом данные методические рекомендации способны облегчить изучение студентами дисциплины и помочь успешно сдать экзамен. В разделе, содержащем учебно-методические материалы дисциплины, содержание практических занятий по дисциплине, словарь основных терминов дисциплины.

Рекомендации по самостоятельной работе студентов

Неотъемлемым элементом учебного процесса является самостоятельная работа студента. При самостоятельной работе достигается конкретное усвоение учебного

материала, развиваются теоретические способности, столь важные для современной подготовки специалистов. Формы самостоятельной работы студентов по дисциплине: написание конспектов, подготовка ответов к вопросам, написание рефератов, решение задач, исследовательская работа, выполнение контрольной работы.

Задания для самостоятельной работы включают в себя комплекс аналитических заданий выполнение, которых, предполагает тщательное изучение научной и учебной литературы, периодических изданий, а также законодательных и нормативных документов предлагаемых в п.6.4 «Учебная литература и ресурсы информационно-телекоммуникационной сети «Интернет», учебно-методическое обеспечение самостоятельной работы обучающихся по дисциплине». Задания предоставляются на проверку в печатном виде.

Рекомендации по работе с литературой

При изучении курса учебной дисциплины особое внимание следует обратить на рекомендуемую основную и дополнительную литературу.

Важным элементом подготовки к семинару является глубокое изучение основной и дополнительной литературы, рекомендованной по теме занятия, а также первоисточников. При этом полезно прочитанную литературу законспектировать. Конспект должен отвечать трем требованиям: быть содержательным, по возможности кратким и правильно оформленным.

Содержательным его следует считать в том случае, если он передает все основные мысли авторов в целостном виде. Изложить текст кратко – это значит передать содержание книги, статьи в значительной мере своими словами. При этом следует придерживаться правила - записывать мысль автора работы лишь после того, как она хорошо понята. В таком случае поставленная цель будет достигнута. Цитировать авторов изучаемых работ (с обязательной ссылкой на источник) следует в тех случаях, если надо записывать очень важное определение или положение, обобщающий вывод.

Важно и внешнее оформление конспекта. В его начале надо указать тему семинара, дату написания, названия литературных источников, которые будут законспектированы. Глубокая самостоятельная работа над ними обеспечит успешное усвоение изучаемой дисциплины.

Одним из важнейших средств серьезного овладения теорией является **конспектирование первоисточников.**

Для составления конспекта рекомендуется сначала прочитать работу целиком, чтобы уяснить ее общий смысл и содержание. При этом можно сделать пометки о ее структуре, об основных положениях, выводах, надо стараться отличать в тексте основное от второстепенного, выводы от аргументов и доказательств. Если есть непонятные слова, надо в энциклопедическом словаре найти, что это слово обозначает. Закончив чтение (параграф, главы, статьи) надо задать себе вопросы такого рода: В чем главная мысль? Каковы основные звенья доказательства ее? Что вытекает из утверждений автора? Как это согласуется с тем, что уже знаете о прочитанном из других источников?

Ясность и отчетливость восприятия текста зависит от многого: от сосредоточенности студента, от техники чтения, от настойчивости, от яркости воображения, от техники фиксирования прочитанного, наконец, от эрудиции – общей и в конкретно рассматриваемой проблеме.

Результатом первоначального чтения должен быть простой **план текста и четкое представление о неясных местах**, отмеченных в книге. После предварительного ознакомления, при повторном чтении следует **выделить основные мысли автора** и их развитие в произведении, обратить внимание на обоснование отдельных положений, на методы и формы доказательства, наиболее яркие примеры. В ходе этой работы окончательно отбирается материал для записи и определяется ее вид: **план, тезисы, конспект**.

План это краткий, последовательный перечень основных мыслей автора. Запись прочитанного в виде тезисов – это выявление и запись опорных мыслей текста. Разница между планом и тезисами заключается в следующем: в плане мысль называется (ставь всегда вопрос: о чем говорится?), в тезисах – формулируется – (что именно об этом говорится?). Запись опорных мыслей текста важна, но полного представления о прочитанном на основании подобной записи не составишь. Важно осмыслить, как автор доказывает свою мысль, как убеждает в истинности своих выводов. Так возникает конспект. Форма записи, как мы уже отметили, усложняется в зависимости от целей работы: план – о чем?; тезисы – о чем? что именно?; конспект – о чем? что именно? как?

Конспект – это краткое последовательное изложение содержания. Основу его составляет план, тезисы и выписки. Недостатки конспектирования: многословие, цитирование не основных, а связующих мыслей, стремление сохранить стилистическую связанность текста в ущерб его логической стройности. Приступать к конспектированию необходимо тогда, когда сложились навыки составления записи в виде развернутого подробного плана.

Форма записи при конспектировании требует особого внимания: важно, чтобы собственные утверждения, размышления над прочитанным, четко отделялись при записи. Разумнее выносить свои пометки на широкие поля, записывать на них дополнительные справочные данные, помогающие усвоению текста (дата события, упомянутого авторами; сведения о лице, названном в книге; точное содержание термина). Если конспектируется текст внушительного объема, необходимо указывать страницы книги, которые охватывает та или иная часть конспекта.

Для удобства пользования своими записями важно озаглавить крупные части конспекта, подчеркивая **заголовки**. Следует помнить о назначении красной строки, стремиться к четкой графике записей – уступами, колонками. Излагать главные мысли автора и их систему аргументов необходимо преимущественно своими словами, перерабатывая таким образом информацию, – так проходит уяснение ее сути. Мысль, фразы, понятия в контексте, могут приобрести более пространное изложение в записи. Но текст оригинала свертывается, и студент, отрабатывая логическое мышление, учится выделять главное и обобщать однотипные суждения, однородные факты. Кроме того, делая записи своими словами, обобщая, студент учится письменной речи.

Знание общей стратегии чтения, техники составления плана и тезисов определяет и технологию конспектирования:

- внимательно читать текст, попутно отмечая непонятные места, незнакомые термины и понятия. **Выписать на поля** значение отмеченных понятий.
- при первом чтении текста необходимо составить его **простой план**, последовательный перечень основных мыслей автора.

- при повторном чтении текста выделять *систему доказательств* основных положений работы автора.
- заключительный этап работы с текстом состоит в осмыслении ранее отмеченных мест и их краткой последовательной записи.
- при конспектировании нужно стремиться *выразить мысль автора своими словами*, это помогает более глубокому усвоению текста.
- в рамках работы над первоисточником важен умелый *отбор цитат*. Необходимо учитывать, насколько ярко, оригинально, сжато изложена мысль. Цитировать необходимо те суждения, на которые впоследствии возможна ссылка как на авторитетное изложение мнения, вывода по тому или иному вопросу.

Конспектировать целесообразно не на отдельном листе, а в общей тетради на одной странице листа. Обратная сторона листа может быть использована для дополнений, необходимость которых выяснится в дальнейшем. При конспектировании литературы следует оставить широкие поля, чтобы записать на них план конспекта. Поля могут быть использованы также для записи своих замечаний, дополнений, вопросов. При выступлении на семинаре студент может пользоваться своим конспектом для цитирования первоисточника. Все обучающиеся внимательно слушают выступления одногруппников, отмечают спорные или ошибочные положения в них, вносят поправки, представляют свои решения и обоснования обсуждаемых проблем.

В конце семинара, когда преподаватель подводит итоги занятия, студенты с учетом рекомендаций преподавателя и выступлений сокурсников дополняют или исправляют свои конспекты.

6. Основная и дополнительная учебная литература, необходимая для освоения дисциплины, ресурсы информационно-телекоммуникационной сети "Интернет", включая перечень учебно-методического обеспечения для самостоятельной работы обучающихся по дисциплине

6.1. Основная литература.

1. Попов, А. М. Теория вероятностей и математическая статистика : учебник и практикум для бакалавриата и специалитета / А. М. Попов, В. Н. Сотников ; под ред. А. М. Попова. — 2-е изд., испр. и доп. — М. : Издательство Юрайт, 2019. — 434 с. — (Серия : Бакалавр и специалист). — ISBN 978-5-534-01009-1. — Режим доступа : www.biblio-online.ru/book/2657E488-ADFB-4941-9BB2-D919CAB898A2.

2. Попов, А. М. Теория вероятностей : учеб. пособие для прикладного бакалавриата / А. М. Попов, В. Н. Сотников. — М. : Издательство Юрайт, 2019. — 215 с. — (Серия : Бакалавр. Прикладной курс). — ISBN 978-5-9916-9791-0. — Режим доступа : www.biblio-online.ru/book/D808FE8D-7D98-4739-BEA8-9E99588AA131.

3. Ковалев, Е. А. Теория вероятностей и математическая статистика для экономистов: учебник и практикум для бакалавриата, специалитета и магистратуры / Е. А. Ковалев, Г. А. Медведев ; под общ. ред. Г. А. Медведева. — 2-е изд., испр. и доп. — М. : Издательство Юрайт, 2019. — 284 с. — (Серия : Бакалавр. Специалист. Магистр). — ISBN 978-5-534-01082-4. — www.biblio-online.ru/book/B7C35CEE-D884-4E72-9410-1EAAE23A47B0.

6.2. Дополнительная литература.

1. Кремер, Н.Ш. Теория вероятностей и математическая статистика. Учебник и практикум для академического бакалавриата. / Н.Ш. Кремер. – 4-е изд. – М.: Издательство "Юрайт", 2016. – 514 с.

2. Татарников, О. В. Теория вероятностей и математическая статистика для экономистов: учебник / О. В. Татарников, Е. В. Швед. – М. : КноРус, 2018. – 206 с.

3. Ковалев, Е. А. Теория вероятностей и математическая статистика для экономистов: учебник и практикум для бакалавриата и магистратуры / Е. А. Ковалев, Г. А. Медведев; под общ. ред. Г. А. Медведева. – 2-е изд., испр. и доп. – М. : Юрайт, 2018. – 284 с

6.3. Учебно-методическое обеспечение самостоятельной работы.

6.4. Нормативные правовые документы.

6.5. Интернет-ресурсы.

6.6. Иные источники.

7. Материально-техническая база, информационные технологии, программное обеспечение и информационные справочные системы

Материально-техническое обеспечение дисциплины включает в себя:

- лекционные аудитории, оборудованные видеопроекционным оборудованием для презентаций, средствами звуковоспроизведения, экраном;
- помещения для проведения семинарских и практических занятий, оборудованные учебной мебелью;

Дисциплина должна быть поддержана соответствующими лицензионными программными продуктами.

Программные средства обеспечения учебного процесса должны включать:

- программы презентационной графики;
- текстовые и табличные редакторы.

Вуз обеспечивает каждого обучающегося рабочим местом в компьютерном классе в соответствии с объемом изучаемых дисциплин, обеспечивает выход в сеть Интернет.

Помещения для самостоятельной работы обучающихся включают следующую оснащенность: столы аудиторные, стулья, доски аудиторные, компьютеры с подключением к локальной сети института (включая правовые системы) и Интернет.

Для изучения учебной дисциплины используются автоматизированная библиотечная информационная система и электронные библиотечные системы: «Университетская библиотека ONLINE», «Электронно-библиотечная система издательства ЛАНЬ», «Электронно-библиотечная система издательства «Юрайт», «Электронно-библиотечная система IPRbooks», «Научная электронная библиотека eLIBRARY» и др.

Материально-техническое обеспечение дисциплины для обучающихся с ограниченными возможностями здоровья и инвалидов включает в себя следующее:

- учебные аудитории оснащены специальным оборудованием и учебными местами с техническими средствами обучения для обучающихся с различными видами ограничений здоровья;
- учебная аудитория, в которой обучаются студенты с нарушением слуха, оборудована компьютерной техникой, аудиотехникой (акустический усилитель и колонки),

видеотехникой (мультимедийный проектор), мультимедийной системой. Для обучения лиц с нарушениями слуха используются мультимедийные средства и другие технические средств для приема-передачи учебной информации в доступных формах;

- для слабовидящих обучающихся в лекционных и учебных аудиториях предусмотрен просмотр удаленных объектов (например, текста на доске или слайда на экране) при помощи видеоувеличителей для удаленного просмотра;
- для обучающихся с нарушениями опорно-двигательного аппарата в лекционных и учебных аудиториях предусмотрены специально оборудованные рабочие места;
- для контактной и самостоятельной работы используется мультимедийные комплексы, электронные учебники и учебные пособия, адаптированные к ограничениям здоровья обучающихся.

Обучающиеся с ограниченными возможностями здоровья и инвалиды, в отличие от остальных, имеют свои специфические особенности восприятия, переработки материала, выполнения промежуточных и итоговых форм контроля знаний. Они обеспечены печатными и электронными образовательными ресурсами (программы, учебники, учебные пособия, материалы для самостоятельной работы и т. д.) в формах, адаптированных к ограничениям их здоровья и восприятия информации:

Для лиц с нарушениями зрения:

- в печатной форме увеличенным шрифтом,
- в форме электронного документа,

Для лиц с нарушениями слуха, с нарушениями опорно-двигательного аппарата:

- в печатной форме,
- в форме электронного документа.